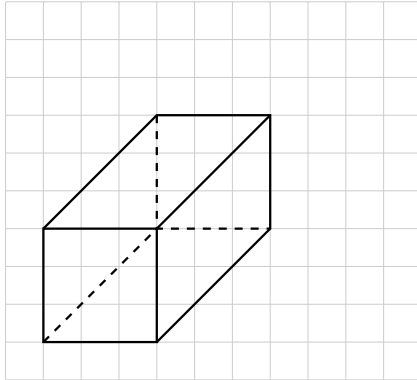


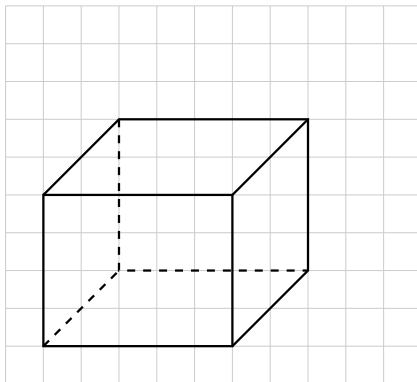
Aufgabe 6

a)



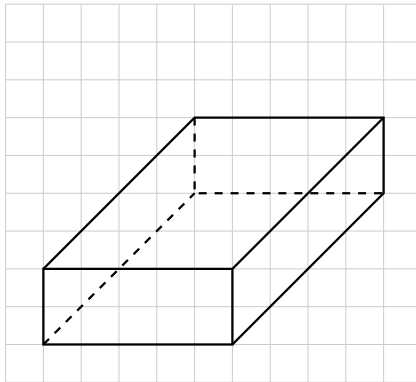
Dieses Quader ist $1,5\text{ cm}$ breit, 3 cm lang und $1,5\text{ cm}$ hoch.

b)



Dieses Quader ist $2,5\text{ cm}$ breit, 2 cm lang und 2 cm hoch.

c)



Dieses Quader ist 2,5 *cm* breit, 4 *cm* lang und 1 *cm* hoch.